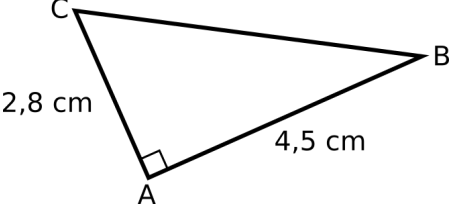



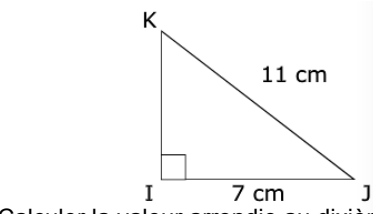



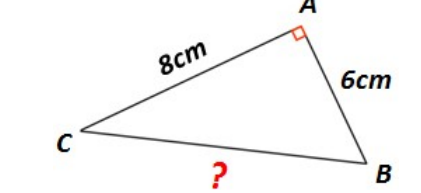



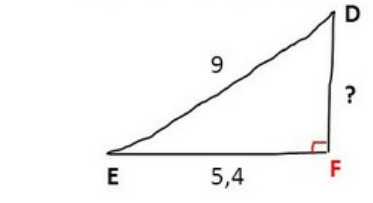



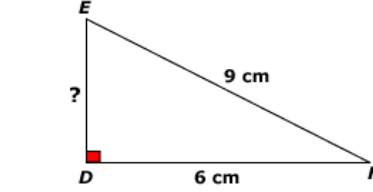





Monstre– Calculer des longueurs avec le théorème de Pythagore

Complète le monstre en répondant aux questions suivantes

 <p>Calculer CB</p>	 3,3cm	 5,3cm	 7,3cm
 <p>Calculer la valeur arrondie au dixième de IK</p>	 8,3 cm	 8,4 cm	 8,5cm
 <p>Calculer BC</p>	 10 cm	 12 cm	 14 cm
 <p>Calculer DF</p>	 1,8 cm	 7,2cm	 10,5cm
 <p>Calcule une valeur arrondie au centième de DE</p>	 6,69cm	 6,70cm	 6,71cm

