

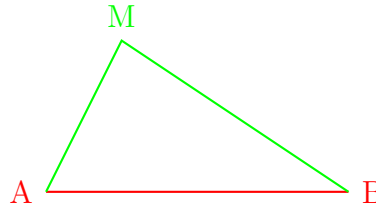
## 1. Inégalité triangulaire

Le plus court chemin entre deux points est le segment ayant pour extrémités ces deux points.

On a donc :

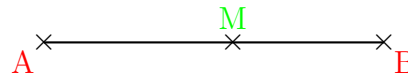
Inégalité triangulaire :

$$AB < AM + MB$$



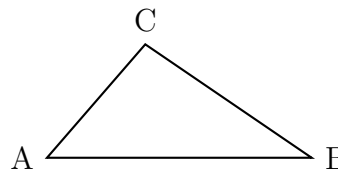
Cas d'égalité :

- Si  $M \in [AB]$ , alors  $AB = AM + MB$
- Si  $AB = AM + MB$ , alors  $M \in [AB]$



## 2. Condition de construction d'un triangle

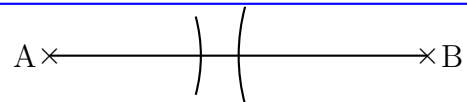
Dans un triangle, la longueur de chaque côté est plus petite que la somme des longueurs des deux autres côtés.



On a :

$$\begin{aligned} AB &< AC + CB \\ AC &< AB + BC \\ BC &< BA + AC \end{aligned}$$

Pour qu'un triangle soit constructible, il faut que la plus grande longueur soit inférieure à la somme des deux autres longueurs.



$AB = 6 \text{ cm}$  ;  $AC = 2 \text{ cm}$  et  $BC = 2,5 \text{ cm}$   
 La plus grande longueur est  $AB = 6 \text{ cm}$   
 $AB > AC + CB$  donc  
 on ne peut pas construire le triangle ABC.

## 3. Exemples

① Peut-on construire un triangle ABC tel que  $AC = 4 \text{ cm}$  ;  $BC = 5 \text{ cm}$  et  $AB = 6 \text{ cm}$  ?

La plus grande longueur est  $AB = 6 \text{ cm}$ .

$$AC + CB = 4 \text{ cm} + 5 \text{ cm} = 9 \text{ cm}$$

$6 \text{ cm} < 9 \text{ cm}$  donc  $AB < AC + CB$ , donc on peut construire le triangle ABC.

② Peut-on construire un triangle EFG tel que  $EF = 3,5 \text{ cm}$  ;  $FG = 5 \text{ cm}$  et  $EG = 9 \text{ cm}$  ?

La plus grande longueur est  $EG = 9 \text{ cm}$ .

$$EF + FG = 3,5 \text{ cm} + 5 \text{ cm} = 8,5 \text{ cm}$$

$9 \text{ cm} > 8,5 \text{ cm}$  donc  $EG > EF + FG$ , donc on ne peut pas construire le triangle EFG.

*As-tu bien compris ?*



G1

Dans chacun des cas suivants, dire si le triangle est constructible. Justifie ta réponse et construis le triangle lorsque c'est possible.

- ① Le triangle OLP tel que  $PO = 3$  cm ;  $OL = 7$  cm et  $PL = 5$  cm.
- ② Le triangle ACG tel que  $AC = 10,1$  cm ;  $AG = 5,8$  cm et  $CG = 3,4$  cm.
- ③ Le triangle IJK tel que  $IJ = 7$  cm ;  $IK = 3,4$  cm et  $JK = 3,6$  cm.
- ④ Le triangle MUD tel que  $MU = 4$  cm ;  $MD = 4,8$  cm et  $UD = 7,5$  cm.